



# 数学問題

## 理学部

### 数学 I

1. a, bが共に正数なるとき、次の不等式を証明せよ。

$$\frac{2(a+b)}{a+b+2ab} \geq \frac{1}{1+a} + \frac{1}{1+b}$$

2. 次の連立方程式を解け。ただし、x, yは正数とする。

$$\begin{cases} x^2y=ya^4 \\ y^2x=xa^4 \end{cases}$$

3.  $\triangle ABC$ の辺BC上に一点Dをとって、AとDを結んで $\triangle ABC$ を2つの三角形に分けたとき、その2つの三角形が相似になつたとする。もとの三角形の形は何であるか。

### 数学 II

1.  $1+\sqrt[3]{2}+\sqrt[3]{4}$ を1根とする整数係数の3次方程式を求めよ。

2. 円  $(x+5)^2+y^2=89$  と直線  $x+y=8$ との交点を通り、直線  $x=-3$ に接する円の方程式を求めよ。

3. 2次方程式  $x^2-2x\cos\theta+\cos^2\theta=0$  の2根が共に整数なるとき  $\theta$ を求めよ。ただし  $0 \leq \theta < \pi$ とする。

### 数学 III

1. 正三角形ABCの辺BC上の点P<sub>1</sub>から辺ABに垂線を引き、その足から辺ACに垂線を引き、さらにその足から辺BCに垂線を引いてその足をP<sub>2</sub>とする。これと同様なやり方でP<sub>2</sub>からはじめてP<sub>3</sub>を求め、以下同様にすれば辺BC上に点列P<sub>1</sub>, P<sub>2</sub>, P<sub>3</sub>, …, P<sub>n</sub>, …が得られる。

(i) 線分P<sub>1</sub>P<sub>2</sub>, P<sub>2</sub>P<sub>3</sub>, …の長さは等比数列をなす。

(ii) nを限りなく増すと、P<sub>n</sub>は一定点に限りなく近づく。

これらを証明せよ。

2. 次の不等式を証明せよ。ただしnは1より大きい整数とする。

$$\frac{1}{1^2} + \frac{1}{2^2} + \frac{1}{3^2} + \dots + \frac{1}{n^2} < 2 - \frac{1}{n}$$

3. xの範囲  $0 \leq x \leq \pi$ における函数

$$\sin x + \frac{1}{2} \sin 2x + \frac{1}{3} \sin 3x$$
 の最大値を求めよ。

## 法学部

I, (1)  $1+a+b+c+bc+ca+ab+abc$ を因数分解せよ。

(2)  $(\frac{2}{3})^x < \frac{1}{10}$ を満足する整数xの最小なものを求めよ。ただし、 $\log 2 = 0.3010, \log 3 = 0.4771$ 。

II,  $f(x) = 4x^2 - bx + 1$ において、 $g(-1) > 0, f(1) > 0$ がなりたち、かつ2次方程式  $f(x) = 0$ が実根をもつとする。

(1), bのとり値の範囲を求めよ。

(2),  $f(x) = 0$ の根の絶対値は1より小さいことを証明せよ。

III, 円Oの円周上の点AおよびBを中心とし、AOおよびBOを半径とする二つの円のO以外の交点をPとする。(ただし、AおよびBは直径の両端でないとする。)

(1), 3点A, P, Bを通る円の中心O'は直線OP上にあることを証明せよ。

(2), 線分OPの長さが円Oの半径のk倍であるとき、円O'の半径と円Oの半径の比を求めよ。

## 社会学部

I, (1)  $x = \frac{\sqrt{10} + \sqrt{2}}{2}, y = \frac{\sqrt{10} - \sqrt{2}}{2}$ になる

とき  $\frac{y}{x} + \frac{x}{y}$ の値を求めよ。

(2)  $x^2 + y^2 + z^2 \geq yz + zx + xy$ を証明せよ。

II, (1)放物線  $y = m - 3x - x^2$ と直線  $y = mx + 5$ が接するとき、mの値および接点の座標を求めよ。

(2)前問の放物線と直線とが交わらないためのmの値の範囲を求めよ。

III, (1)AB, CDは円Oの平行な二つの弦、MはABの中点であるとする。このとき  $\triangle MCD$ が二等辺三角形であることを証明せよ。

(2)前問において、CMの延長が円Oと交わる点をE、二つの弦AB, DEの交点をFとする。 $\triangle DFM$ の外接円が円Oに接することを証明せよ。

# 物理問題

## (理学部)

[I], 次の問の答を下の解答欄の該当したところに記入せよ

(1) 一定容積の容器内にある温度  $0^\circ\text{C}$  の理想気体の圧力を2倍にするには、温度を摂氏何度にすればよいか。

(2) ある容器中の空気が  $100^\circ\text{C}$  で30%の相対湿度をもっている。この空気の水蒸気圧は何 mmHg であるか。

(3) 電流計に電流 i が流れている。これに分路を入れて、電流計を流れる電流を  $\frac{1}{2}i$  にしたい。分路の抵抗を電流計の内部抵抗の何倍にすればよいか。(解答欄省略)

[II], 次の文章の□内以下に下記したもののうちから、適当なものを選んで解答欄の該当したところに記入せよ。(同じものを繰返し使用することができる)

x	y	z	x-y	y-z	z-x
正	負				

図のような直角座標系がある。

(1) 原点Oの近くでz軸方向に電気振動が生じたとき、□A軸方向に進む電磁波の電界が振動する平面は□B平面であり、磁界が振動する平面は□C平面である。

(2) 原点Oからz軸の正方向にα線とβ線がでている。y軸の正方向に電界をかけると、β線は□D平面内で□E軸の□F方向にまげられる。またy軸の正方向に磁界をかけると、α線は□G平面内で、□H軸の□I方向にまげられる。

[III], 半径rの円形の池にそつて、水面からの高さhが一樣な道路がある。この円形の道路上を、自転車に乗つて、一定速度vで池の周囲をまわっている人がある。自転車の位置と池の中心との水平距離は池の半径に等しいとして、次の間に答えよ。ただし、重力の加速度をgとし、空気の抵抗は無視できるものとする。

(1) 自転車が池の周囲を走りつづけるためには、車を少し内側にかたむける必要がある。鉛直方向に対してかたむけるべき角度をθとして、tanθを求めよ。

(2) 自転車に乗つたままで、水平方向に初速度v<sub>0</sub>で石を投げ、池の中心におとすには、どの方向に投げればよいか。投げるべき方向と車の進行方向とのなす角をφとして、φとv<sub>0</sub>との間に成立つ関係式を求めよ。

(3) (2)の場合で、v<sub>0</sub>をh, r, g, vであらわせ。ただし、道路面からはかつた自転車と人の高さはhにくらべて、十分小さいものとする。

[IV], 焦点距離fのうすい凸レンズの光軸にそつた平行光線(単色光)が、その凸レンズを通つてあつまる点をPとし凸レンズに対してPの対称点をQとする。

(1) 凸レンズをおいたままで、図1のようにQ点に焦点距離fの凹レンズをおく。このとき光のあつまる点をP<sub>1</sub>とし  $\overline{PP_1}$ をfであらわせ。

(2) (1)の場合、光の道筋を図1にかき入れよ。

(3) 凹レンズの代りに、図2のようにプリズムをおく。このプリズムの屈折率nは1にくらべてあまり大きくなく、頂角αはきわめて小さい。また光は図2のように、プリズム面に垂直に入射するものとする。このとき光のあつまる点をP<sub>2</sub>として、 $\overline{PP_2}$ をn, αであらわせ。ただし、一般に角度θ(ラジアン)がきわめて小さいときには  $\sin\theta \approx \tan\theta \approx \theta$ の関係がある。計算にはこれを用いよ。

# 化学問題

## (理学部)

I, 次の文章が正しい意味を表わすように□の中から最も適当な語句、又は数字を選んで、解答欄にある記号を○

印でかこみなさい。

(1) ラジウムの原子核はα線を放射してラドンの原子核に変わる。α線は(i) {a, 水素, b, ヘリウム} 原子核の流れである。ラジウム元素の原子番号は88であるから、ラドン元素の原子番号は、(ii) {a, 86, b, 87, c, 89, d, 90} でなければならない。

(2) 硫酸第一鉄の酸性溶液に過マンガン酸カリウム溶液を加えると、過マンガン酸カリウム溶液の紫赤色が脱色される。この反応においてマンガンは(i) {a, 酸化, b, 還元} され、鉄は(ii) {a, 酸化, b, 還元} されたのである。

(3) メチルアルコール(メタノール)の合成には  $\text{CO} + 2\text{H}_2 \rightarrow \text{CH}_3\text{OH}$  (気体) + 21.7 Kcal, の反応が利用される。メチルアルコールの収率を上げるには、なるべく温度を、(i) {a, 高, b, 低} くし、圧力を(ii) {a, 高, b, 低} くした方が有利である。

(4) 塩化ナトリウムの1モル水溶液と砂糖の1モル水溶液について氷点をくらべると、塩化ナトリウム溶液の方が、(i) {a, 高, b, 低} い。これはその溶液中で塩化ナトリウムが (ii) {a, 分解, b, 加水分解, c, 電離} して陽イオン、陰イオンを生じ、それぞれが中性の分子と同じようにはたらくからである。

(5) 塩化ナトリウムの水溶液を電気分解すると、(i) {a, 陽, b, 陰} 極から塩素が発生し、一方(ii) {a, 陽, b, 陰} 極からは水素が発生し、そのまわりの溶液は水酸化ナトリウムを含むようになる。電気分解においては、同じ電流量で生ずる物質の量はおおの、(ii) {a, 原子量, b, 分子量, c, 当量} に比例する。

II, A群にあげた固体(結晶)物質、(1)-(7)の中から、B群の性質{(a)-(g)}を示すものを選んで、その番号を解答欄に記しなさい。

但し、B群の性質を示す物質が一つとは限らない。又、A群より何回同じものを選んでよい。

A群 この中、(1), (2), (3), (4), の物質には結晶水が含まれている。

(1) 塩化マグネシウム  
(2) 炭酸ナトリウム  
(3) 硫酸銅  
(4) ミョウバン(硫酸アルミニウムカリウム)  
(5) 塩化アンモニウム  
(6) 硝酸銀  
(7) ヨウ素

B群(a) 空気中に放置すると、水分を吸つてべとべとするようになる。

(b) 水には溶けにくい、アルコールにはよく溶ける。

(c) 水酸化カルシウムと加熱すると湿つた赤色リトマス試験紙を青くするような気体を発生する。

(d) 水溶液はかなり強いアルカリ性を示す。

(e) 水溶液に塩酸を加えると、沈でんを生じる。

(f) 水溶液に、水酸化ナトリウムの水溶液を少量ずつ加えてゆくと一旦沈でんを生じ、更に充分な量を加えると沈でんが溶けて透明な溶液となる。

(g) 水溶液に、アンモニア水を少量ずつ加えてゆくと一旦沈でんを生じ、更に充分な量を加えると沈でんが溶けて透明な溶液となる。

III, 次のA群にある化学反応{(a)-(h)}の種類はそれぞれ何であるか。B群に示された反応名{(1)-(7)}の中から最も適当なものを選んで、その番号を解答欄に記入しなさい。B群から二度同じものを選んでよい。

A群 (a)ニトロベンゼン→アニリン  
(b)脂肪→グリセリン+脂肪酸塩  
(c)エチルアルコール→アセトアルデヒド  
(d)酢(醋)酸→酢酸エチル  
(e)タンパク(蛋白質)質→アミノ酸  
(f)ベンゼン→クロロベンゼン  
(g)塩化ビニル→ポリ塩化ビニル樹脂  
(h)アセトアルデヒド→酢酸

B群 (1)酸化 (2)還元 (3)置換 (4)加水分解 (5)エステル化 (6)けん(鹼)化 (7)付加重合

(以下二問省略)

国名	土地利用の割合(%)				農牧人口の割合(%)
	耕地および果樹園	牧地	森林	未利用の可耕地	
(1)	29.1	50.4	6.6	7.0	4.9
(2)	45.7	2.6	14.3	11.2	70.6
(3)	52.3	17.1	19.1	3.7	39.7
(4)	24.1	32.7	33.1	0.8	12.2
(5)	13.8	3.6	61.0	10.0	41.1

II、世界の四大漁業場に関しつぎの間に答えよ。

問1、つぎの各地域は四大漁場のうちのいずれの漁場に属するか。またその代表的な水産物の一つだけあげよ。

- a、フアンジー湾
- b、カチヤムツカ半島沿岸
- c、ロフオーテン諸島
- d、コロンビア川
- e、グランドバンク

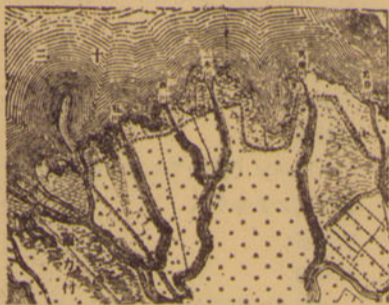
問2、四大漁場形成の地理的条件を五つあげよ。

III、つぎの三つの地形図を判読して、つぎの間に答えよ。(問2以下第1図a、第2図b以外はすべて記号をもつてすること)



第二図

第一図



第三図

問1、各図の表わす代表的な地形名を一つずつ書け。

問2、第1図について

- a、宮下から二ツ家神戸にかけての集落列の位置を支配した立地条件の一つ記せ。(5字以内)
- b、上の集落列の西側は土地利用上、主として何に利用されているか。(5字以内)

第2図について

- a、集落形式は次のどれにもつとも近い。イ、干拓の村 ロ、散村 ハ、条里の村 ニ、塊状村
- b、北すみにある井沢の周囲の土地は何に利用されているか。(5字以内)

第3図について

- 水田に利用されている部分は次のどれにあたるか。イ、後背低湿地 ロ、埋立地 ハ、自然堤防

問3、三つの図の中で、次の項目にあげたものが見出される図番号を記せ。

- イ、桑畑 ロ、天井川

経済学部

I、つぎは北海道の米作の発展についての文章である。これをよく読んで文章のあとにある間に答えよ。

ケブロンヤクラークなど北海道開拓の初期の指導者はいずれも米作に反対であった。かれらは北海道の自然条件と類似の世界各地の実例から考えて作物としては麦をすすめた。また明治7年の北海道開拓使の布告には次のように記されている。『今、移住者の人情つねに水稲に注目す。しかれども水稲は風土的に凶作のおそれつねにあり。これのみにては農家破滅のもととならん。よろしく西洋の例にならば、麦をもつてパンを製し、牛を飼ってこれを補うは最も安全なる生活というべし』と。しかし北海道への移住者は次第に米を栽培し、水田境界線もこれに伴って急速に前進していった。それは環境に対する一つの大きな挑戦であつて、この点でむしろ自然順応的な従来の日本の他地域での米作とは著しくことなるものであつた。

(問1) つぎの表は北海道のある土地およびこれと同じような気候の欧米の土地を示したものである。このデータによつてそれぞれの地域名を判定せよ。

	地域 A	地域 B	地域 C
年平均気温	5.4°C	3.5°C	4.0°C
1月平均気温	-10.0°C	-11.1°C	-12.0°C
8月平均気温	20.5°C	18.3°C	19.5°C
年降水量	1085mm	573mm	1048mm
地形的条件	盆地	平野	大河流域
地理的位置(大体)	N44°, E142°	N55°, E38°	N45°, W73°

(問2) 上記のような北海道開拓使の布告があつたにもかかわらず、なぜ北海道では米作を強行したのだろうか。その理由を自然的関係および社会的関係からそれぞれ一つだけ記せ。

(問3) 上の文章にある『環境への挑戦』とは技術的には何をさすのだろうか。主要なものを三つあげよ。

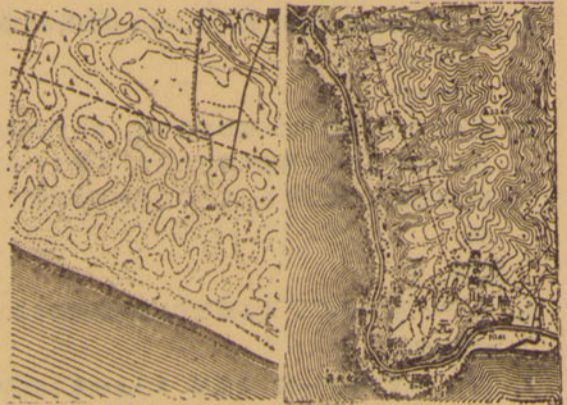
- II、つぎの各項は下記のA欄地域におけるB欄の産業を、さかんにあるいは不振にさせた理由や条件の一つである。それぞれ各項に該当する地域と産業をA、B欄より選び、それぞれの記号(A、イ、ウ……)をもつて記入せよ。なお必要ならば、A、B欄内の各項は何回用いてもよいし、またいくつ選んでもよい。
- 1、この植物はやせた土地によく育ち、その皮は10年毎にはぎとられて、その製品はこれらの国の重要な輸出品となつている。
- 2、土地が狭少、人口が稠密のため、土地利用の点ではこの産業のために土地をさく余裕がなかつた。
- 3、瀑布線がよく発達し、動力を豊富に得られた。
- 4、高温湿潤な無風の沖積地で排水のよいことがその条件である。
- 5、地中海式気候であるが、雨の少ない地方では大規模な灌漑によつて、世界的な産地となつている。

(A) ア、インド イ、オーストラリア北部 ウ、日本 ニ、東南アジア オ、東部ブラジル カ、アルゼリア キ、ペニン山脈西部 ク、西アフリカ ケ、カリブ海

地方 コ、カリフォルニア サ、ニューイングランド シ、スペイン ス、アパラチア東部 セ、ポルトガル ソ、中央アジア

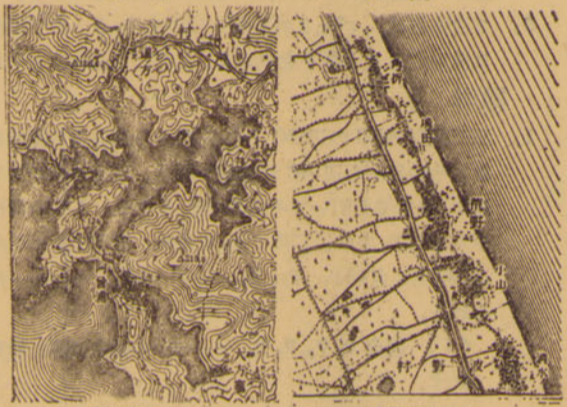
(B) ア、テレピン油製造 イ、綿工業 ウ、漁業 ニ、林業 オ、機械工業 カ、酪農業 キ、コルク製造 ク、化学工業 ケ、カカオ栽培 コ、果樹栽培 サ、食料品工業 シ、鉱業 ス、小麦栽培 セ、パルプ工業 ソ、牧畜

III、つぎの4地形図を判読して、つぎの間に答えよ。(問2) 以下はすべて記号をもつてすること。



第二図

第一図



第三図

第四図

(問1) 四つの図の表わす地形の代表的なものの地形名を一つずつ書け。

(問2) 第一図について

- つぎの中で最も広い面積をしめているのは何か。イ、針葉樹林 ロ、果樹園 ハ、茶畑 ニ、荒地 ホ、水田 ヘ、竹林

第2図について

- 図中の矢印は次のうちの何を示したのか。イ、風の方向 ロ、水のあるところ ハ、凹地 ニ、砂の移動方向

第3図について

- 役場のある位置は海拔何メートルのところか。イ、10m ロ、20m ハ、30m ニ、40m ホ、60m

第4図について

- 図の南部に水をたたえたところが5ヶ所ある。これは次のどれにあたるか。イ湿地 ロ、降水時にたまる水 ハ、人工的ため池 ニ、水のわいている所

(問3) 四つの図の中で水準点の見いだされる図はどれか。

- イ、第1図 ロ、第2図 ハ、第3図 ニ、第4図

(問4) 四つの中でもつとも人口密度の大きな海岸地域をもつ図はどれか。

- イ、第1図 ロ、第2図 ハ、第3図 ニ、第4図

陸・海・空の切符類予約と販売  
バス・旅館等の予約  
時刻表・各地案内の旅行図書  
等揃えております

日本交通公社

池袋営業所 (立教大学事業部内)

土木・建築



設計・施行

株式会社 熊谷組

取締役社長 熊谷 太三郎  
取締役副社長 牧田 甚一

本社 福井市豊島上町1番地 電話 福井(2)4800-2  
営業所 東京都新宿区須田町1番地 電話 03-5611  
支店 札幌・東京・名古屋・大阪・広島・福岡

問10. 平城京の東西市で交換の媒体として、もつとも多く使われたと思うものを下記から一つ選び、その記号を記せ。

(い) 和銅開珎 (ろ) 砂金 (は) 布 (に) 毛皮

III. つぎのAからEまでの項目にもつとも関係の深いと思う事柄をA群、B群より一つずつ選んで、その記号を解答欄に記せ。一つの語を2回以上使用してはいけない。

A、封建制の崩壊 B、近代産業の移植 C、第一次産業革命 D、第二次産業革命 E、フアシズム

- A群 い、廃藩置県 ろ、博覧会事業 は、軍人勅諭発布 に、浜口首相狙撃さる ほ、大正デモクラシー へ、重工業の本格的発展 と、紡績製糸業の発展
B群 い、地租改正 ろ、国際連盟脱退 は、農業国から工業国 へ に、帝国主義的発展の確立 へ、官営工場設立 と、政党政治の発展

人文地理問題

文学部

I. つぎの文章をよく読んで質問に答えよ。
世界は数多くの異質的な生活地域の集合から成っている。そしてわれならぬ異質的なものに心をひかれるのは人間自然の傾向であろう。ことに人間の心にひそむ向日性と異国趣味とは近代にあらわれたたくさんの文学や旅行記のなかに強い反映をみせている。つぎはそのいくつかの例である。

- (a) 重いノスタルジアに心ひかれて、椰子の葉が微風にそよぐ「東南アジアの宝石」といわれる緑の島影に別れを告げていくとき、また氷雨のふるわびしい冬のゾイデル海のほとりにいて、永劫の緑と紫に霞む火山と褐色の皮膚・やさしいひとみの人びとがあふれ住むあの熱帯の島をしのぶとき、言いようもなく心がうずくのをどうしようもない。
(b) 私は成長するにつれ、南風のなかに甘美な美しい南国を感じてこれを喜ぶようになった。いつも喜びと暖かさを美の流れの源である南国を、それはあらしのように燃えながら、アルペンのかなたのコモ湖のほとりにはもう桜草や水仙や巴旦香(はたんきょう)の花が咲いていることを、雪に埋れた心がバヴァリアの村々に告げる熱である。
(c) マロニエの街を遠く去つてゆく文化の波のいまだ及ばざるところ——渺茫たる広大無辺の大洋にのぞんだこの地方——たこのきを屋根とし、パンの木のみのる村々——珊瑚礁の海辺へと辿つてみたまえ。そこに永遠の微笑をたたえた常夏の国——ティアレの花とうるわしき乙女の国を見るだろう。
(d) 黒い屋根瓦を狭い庭がぎつしりつまつた大都市のなかに囚われている植物を思うとき私の胸にうかぶのはいつも菘竹桃の花である。この花はわが国本来のものではない。従つてこの花をみるたびに私はかつて立ちよつたことのあるあの黒色の老大陸の西端の地方を思い出す。そこは熱気の静寂が―帯を支配し、空気も重くよどんでいた。至るところ砂地だ。その砂地のなかに点々と見出

される水辺に濃緑の葉を繁らせ、紅色の花の房を高く咲きほこらせているのが菘竹桃であつた。おのが生れ故郷で思うがままの自由さをもつてのびている。この美しい花はいつ、どうした過程で大洋をこえアジアのはてまで辿りついたのであるか。空想は限りなくひろがるのである。

問1) この文章はそれぞれどこの国の人が、どこの地方をあこがれて書いたものか。

問2) アンダーラインをした部分の意味を説明せよ。

II. つぎにするす各宗教の霊地をあげ、かつ下記の地域名よりその宗教の普及領域に該当するものすべてを選び、それぞれの記号(ア、イ、ウ……)をもつて記入せよ。

- 1、ヒンズー教 2、キリスト教 3、儒教 4、スラム教 5、ラマ教 (地域名)

ア、北アフリカ イ、メキシコ ウ、北極海沿岸
エ、蒙古 オ、パキスタン カ、トルコ キ、中国
ク、インド ケ、マレー諸国 コ、チベット サ、スカンジナビア半島 シ、アルゼンチン ス、セイロン島
セ、ソビエト連邦 ソ、イラン

III. つぎの各項は政治、経済、自然などを基準としたいろいろな地域の境界である。それはどういう地域の境界であるか、各10字以内で記入せよ。

- 1. 北緯38度線
2. ビレネー山脈
3. グランデ川
4. 海岸より200mの等深線
5. 鈴鹿山脈
6. プレンネル峠
7. 中国山脈
8. 北緯49度線
9. 糸魚川、静岡線
10. ボスニア湾

法学部

I 寛永の鎖国後、日本に潜入したキリシタンの宣教師シドチを幕命によつて訊問した新井白石の記録が有名な西洋紀聞であり、その中には当時の世界の地理的知識がよく記述されているが、下記の文章はその東南アジア方面についてのものである。これをよく読み、アンダーラインをした部分につき下記の問に答えよ。

スマアタラ(1)はアジア地方、南海の中にあり。わずかにその東北海を隔て、すなわちマロカ(2)の地なり。此国直ちに赤道の下にあたり。春分より秋分に至つて日影南にあり、秋分より春分に至つて日影北にあり(a)。ロクソン(3)はチイナのカンタンの(4)南海にあり其の国の南土をばマネラ(5)ともいふ。近世以来イスパニア人併せ得て其の人をして国事を治めしむ。またヤバソジスの子孫、此国にあるものすでに三千余人、集り居て集落をなす(b)。基の人、本国の俗を變ぜず、双刀を腰にす。

此国の北はすなわちフルモーザ(6)なり。もとオーランド人(7)の拠りしところ、今はチイナに属するといふ。

オーランド人に問ふに、オーランド地方よりこゝに来るには其の北海より去りて西し、アフリカの西を経てカアブ地方(8)に至つて東に折れ、アジア南海を経てジャガタラに至り、ここよりまた北して我国に至る。其の行程を計るに凡そ一万二千九百里に及ぶといふ。もしオーランド地方よ

り北に去りて東に轉じ北海を経て東し、南に轉じてここに來らば行程わずかに三四千里に過ぐべからず、なにを苦しみてか、此の路にはよらざるや(c)。

問1. (1)~(8)についてはそれぞれ現在よばれている名称を記せ。

問2. (a)はその意味を説明せよ。

(b)は何を指したものか、簡単に記せ。

(c)はこのコースを普通何とよんでいるか。またこの文の末尾にある疑問はなぜおこつたか。

II. アメリカでは都市の発生の順序は、交通の発達と密接な関係があつた。つぎにあげる各年代において、いかなる交通の発達によつていかなる都市が発生したか。その交通条件をA欄より都市名をB欄より選び、それぞれの記号(ア、イ、ウ……)をもつて記入せよ。なお都市名は該当するものすべてを選べ。

- 1、1840年以前 2、1840~1860 3、1860~1880 4、1880~1900

(A) ア、航空機の発達 イ、河川交通による ウ、高速道路の発達 エ、海港として発生 オ、自動車の発達 カ、五大湖の水運 キ、鉄道の発達

(B) ア、リバプール イ、クリーブランド ウ、ミネアポリス エ、バーミンガム オ、バツファロー カ、ニューオーリンズ キ、ワシントン ク、グラスゴー ケ、セントルイス コ、ニューヨーク

III. スエズ運河、パナマ運河について、別紙解答欄に該当するものを下記条項中より適当にえらび、記号をもつて記入せよ。

- a、162km b、1880年 c、太平洋 d、ポートサイド e、紅海 f、132km g、カラチ h、コロソ i、93km j、1914年 k、地中海 l、スエズ m、1869年 n、カリブ海 o、パナマ p、バルト海

社会学部

I. (A)は各国の土地利用と生活との関係を述べた文章であり、また(B)は(A)の国々の状況を数字で示した表である。(A)の文章を読み、(B)の表と照らし合わせて、(B)の表の(1)~(5)のどれが(A)の各国に当たるか、解答欄にその国名を記入せよ。

- (A)(a) 日本は国土保全の上からも森林の濫伐は許されない。そして農民は事情の許す限り土地そのものを直接食料の生産にあてなければならぬ状態にある。
(b) インドでは自然が複雑なため、土地の大きさにくらべて耕地が少ないことに気づく。また日本のように近代的な産業革命を経ないし、農民の土地所有関係からみても生活の貧しさがうかががられる。
(c) イタリアは人口の過剰な点で日本とよく比較されるが、国土開発の割合でははるかに進んでいることがわかる。森林は地中海の気候のために成長は十分ではない。また耕地の中でもかなりの部分が果樹園となつていのである。
(d) イギリスでは畑と牧場との占める面積が案外に大きい。そしてこの両者は密接に結合して混合農業の特色を示している。しかもその農業経営は一戸当りの耕地が日長などにくらべてはるかに大きい。
(e) 米国では歴史の新しいわりに国土は著しく開発が進んでいる。第二次産業に従がう人々の残りがこの広い土地を耕すために勢い機械化に頼らざるを得ない。

低廉・栄養満点 / 出前迅速 /

学生(第一)食堂

クラシツクな家庭的雰囲気でお食事を

宴会 婚礼 集会 グリル 日比谷 松本楼

TEL (581) 代表 2156

御食事・喫茶・御会食

立教大学第二食堂

丸物地階食堂

国立競技場第一食堂

よう)に謂(い)ひて曰く「蛮夷の書、無礼なるものあり、また以て聞(ぶん)するなかれ」と。

- 問1. 上のA、B、C、D各史料について、古い順に1、2、3、4と順序を記入せよ。
問2. A、B、C、は書簡の一部である。誰にあてたものか、あるいはこの書簡を受けた当事者は誰か、そのいずれかの名を記せ。Dの文中に使者とあるのは誰か、その名を記せ。
問3. A、B、C、D、は中国のいかなる国(王朝)と関連したことなのか、国名(王朝名)を記入せよ。

法 学 部

I、つぎの貨幣について設問に答えよ。

イ、永楽通宝 ロ、和銅開珎 ハ、延喜通宝 ニ寛永通宝 ホ、太政官札

設問A、解答欄のA欄に、その貨幣が初めて造られた年代を世紀をもって記せ。

設問B、解答欄のB欄に、中国のものは初めて造られた時の王朝名を、日本のものは初めて造られた時の天皇名を記せ。

II、つぎの文章の空欄に正しいと思う語句を入れよ。

a) 承久の変後、朝廷の権威は著しく衰え、皇位の継承にも幕府が干渉するようになった。後醍醐天皇の譲位後、皇統は第一皇子後深草天皇にはじまる(1)と、第二皇子龜山天皇にはじまる(2)の兩統に分れ、兩統はときに自統の即位を主張したので、幕府はこれに干渉して兩統が交代に皇位につくという(3)の案を成立させた。この皇位継承問題は、所領の相続問題をもふくんでいたため、容易に解決しないまま(4)の即位となった。天皇は即位後、朝廷の刷新を企て、まず父の後宇多上皇の院政が中止されたのを機会に(5)を復活した。

b) 藤原仲麻呂は(6)の信任を得て勢力をのぼし、橘諸兄は失意のうちに世を去つた。まもなく諸兄の子(7)が仲麻呂を倒そうとしたが失敗し、こゝに仲麻呂の政権が確立した。仲麻呂は(8)の名を賜つて権勢をふるい、祖父不比等の選定した(9)を施行し、百官の名称を唐風に改めた。また課丁の年令を改訂し、10を半減するなど、時代に対応しながら律令政治の振興をはかった。

III、つぎのA~Eまでのおのおのの事柄に対してつとも正しいと思われる説明を各項のイ~ホまでの中からさがし、正しい説明の記号を解答欄に記入せよ。

A、地租改正

イ、地主の収入は物価上昇につれて、相対的に上昇した。

ロ、物価上昇につれて、地租の物納のために地主は相対的に窮乏化した。

ハ、小作人が地主に金納する結果、物価上昇につれて、小作人の収入は相対的に増加した。

ニ、この改正の結果、封建的諸制約が農村から掃き払われた。

ホ、この改正の結果、小作人の経済的地位が安定した。

B、自由民権運動

イ、この運動は国会開設にともなう衆議院選挙を迎えていよいよ盛んになった。

ロ、西南戦争後の3、4年の間は、経済的には混乱期であったが、そのころがこの運動の全盛期であったとみられる。

ハ、明治7年、板垣の民選議院設立の建白書や立志社の

創立などあつて、この運動のもつとも盛んな時期であつたが、西郷の西南戦役における敗北は、これを決定的に衰退させた。

二、運動の主体的勢力は農民であつた。この農民の中から運動の指導者が広汎にあらわれた。

ホ、運動の主体的勢力は都市の市民層であつた。

C、廃仏毀釈運動

イ、山崎闇斎の垂加流神道がこの運動の思想的な背景となつた。

ロ、この運動の起きた明治20年ごろは、あたかも国権論の盛んになりかけたところであることから理解できるように、この運動は国権論の擡頭と軌を一にしているといえよう。

ハ、平田篤胤の復古神道を思想的背景としてこの運動が起きた。

二、この運動は幕末のころ、西南雄藩を中心として起きたものである。

ホ、この運動は結果的には神道主義の敗退と仏教隆盛を生みだした。

D、株仲間

イ、松平定信のときに初めて公認された。公認するかわりに冥加金をかけて幕府財政を強化した。

ロ、水野忠邦は株仲間解散令を出した。その結果、以後株仲間は全く姿を消すにいたつた。

ハ、田沼氏は物価騰貴の原因が株仲間にあると考え、株仲間解散の機をねらつていたが、遂に解散させることはできなかった。

二、株仲間は以前からあつたのであるが、吉宗の時に初めて公認された。

ホ、株仲間は幕府に対抗して自分たちの利益を守るために結成されたものである。

E、幕藩体制

イ、商品経済の発展の上に成りたち、商品貨幣経済による経済体制を基礎としている。

ロ、天皇を絶対的主権者とし、全国の大名は一応その家臣として成りたつていながら各大名はいずれも天皇から土地を安堵されている。

ハ、この体制下においては、將軍は集権的な統一権力者ではなく、各大名に権力が存在し、將軍は分権的統一者である。

二、経済的基礎は町人にあり町人に課せられる税をもつて成りたつてい

ホ、自給自足の自然経済であり、自然経済の基礎は農民にある。

社会学部

I、次の文章の空欄にもつとも適する語を解答欄に記入せよ。

春休みにいなかの伯父の家を訪れた私は、ある日の午後歴史の好きな伯父の案内で付近の遺跡めぐりをした。家の裏のたんぼ道を通つて小高い丘に登ると、その北側の斜面にカキなどの貝殻がたくさん畑の表面に散らばつていた。よくみるとそれに混つて、縄目のような模様のある土器の破片や、石で作つたやじりなどがあつた。伯父は「これは(イ)といつて、石器時代にこの辺に住んでいた人たちが自分たちが食べもののカスなどをすてたごみすて場のあとだよ。日本で最初にこの種類の遺跡を学術的に発掘した人は、アメリカの動物学者の(ロ)先生だ。明治10年に先生は東

京の(ハ)を発掘して、石器時代の日本人の生活を初めて明らかにされたんだよ」と説明してくれた。

しばらく行くとラクダの背のような小山の前にてた。上に登ると、一方はまるく、一方は長方形であつた。伯父は「これは(ニ)といつて、古代の豪族のお墓なんだ。この呼び名は、江戸時代の勤皇家で山陵志という本を書いた(ハ)が形になんでつけたんだ。この形式のお墓で、日本で最大といわれているのは、(ロ)世紀に作られた仁徳天皇の御陵だよといつた。このお墓のまわりに土管のかけらのようなものが散らばつていた。「これはなんですか」と聞くと、伯父は「これは(ロ)といつて、お墓のまわりや上に立てた、いろいろの形をした焼き物の破片だよ」と教えてくれた。

谷を一つこえて向いの台地に登ると畑の表面に布目のある瓦の破片があちこちにおちていた。少し行くと、相模の土俵を大きくしたような土壇の上に、大きな土台石がいくつかあるところに出た。伯父は「こゝは(ロ)天皇が(リ)13年に諸国に命じて建てさせたこの国の(ハ)の跡だ。むこうに見える土壇が七重の塔の跡だよ」と教えてくれた。私たちはこゝでしばらく休んでから、丘を下りて帰途についた。

II、AからCまでの文を読み、おのおのの文の下にある問に答えよ。

A、商品貨幣経済の発達にともなつて、貨幣の流通が益んになり、私鑄銭もあらわれ、経済界が混乱した。また、種々の税も貨幣で納めることが多くなり、所領をあらわす場合にも貨幣に換算した額が示すようになった。

問1. 私鑄銭が横行した結果、この混乱を規制するためにどのような令が出されたか。

問2. 所領を貨幣に換算して何をよんだか。

B、この時代になると、より一層商業は栄え、荘園領主である大社寺の保護のもとに独占的な結社を結んで活動した。

問3. この結社を何とよんだか。

問4. この結社を保護している大社寺を、結社側からは何とよんだか。

問5. 結社について、以下四つの説明のうち、正しいと思う説明一つを選びその記号を記せ。

(イ) 結社の分布範囲はまったく畿内に限られていた。

だから彼らの特権も畿内の外では役立たなかつた。

(ロ) 彼らはたがいに連合し、ことに大阪の二十四組問屋、江戸十組問屋は有名である。

(ハ) 結社の多くは関銭の免除という特権をえていた。

(ニ) この結社を信長や秀吉が保護していたのは、商品生産の利潤を一手に掌握したいがためであつた。

C、わが国においては、早くから祭などに際して市が開かれていた。古い文献にも大和で開かれた市の名称などがあらわれている。700年で3飛鳥の藤原京に設置されたといわれる東西市以来、規模がととのい、かつ大きくなつた。都が平城京に定められるにともない、東西市もこゝに移された。

問6. 大和で開かれた地方市の名称を一つあげよ。

問7. 平城京の東西市につき、つぎの三つの説明のうち正しいもの一つを選び、その記号を記せ。

(イ) 平城京の繁栄とともに自然に市が発生した。

(ロ) 律令に基づいて設置されたものである。

(ハ) 東大寺や西大寺の周辺に門前市として発生した。

問8. 藤原京は何天皇の皇居があつた都か、天皇を1人あげよ。

問9. 平城京の東西市を直接監督している役人を何とよぶか。



フォノカード発売
大学校歌吹込み盤 LPレコード

(縦 19.5cm・横 15cm)

¥ 100.00

御申込は立教学院事業部迄

50枚以上の御買上げの方は1割引

写真集編集・印刷
美術写真制作・出版

株式会社

恵 雅 堂

東京都新宿区山吹町一二八
電話 (341) 9 3 9 0 番
振替 東京 七八四一三

文学部

I、つぎの文に関し、下記の設問に答えよ。

1401年、a)足利義満は(1)及び筑紫の商人肥富某らを明に遣わして通商を求め、1404年以来、明の発給する割符をもつて渡航するいわゆる(2)貿易が始まった。しかしb)応仁の乱のころから、その実権は幕府の手を離れ、(3)氏、ついで(4)氏の握るところとなった。主要輸出品は鋼・刀剣・硫黄などであったが、後の二者は官許貿易品であった上、16世紀になってから日本国内に(5)の産出が急増したこと、中国産の(6)の需要が高まったことによつて、中国の私貿易船が盛んに来航するようになった。また島津・大友・松浦氏ら、九州の諸豪族も、海商との関係をますます密にし、領国の富強を図つたので、14世紀以来、さしも東亜の海辺を荒らし廻っていたいわゆる(7)の活動もしだいに衰えた。やがて1543年にc)ポルトガル人が渡来して、いわゆる(8)貿易が行なわれたことなどが影響し、日明貿易は一時期退せざるをえなかつた。豊臣秀吉は明のみならず、東洋諸国の貿易に熱意を示したが、その強圧的外交手段はd)文禄・慶長の役をひき起した。そのため明は、かえつて絶交の態度を強めた。これに対し徳川家康は、和親通商政策を進め、正規の国交は回復できなかつたが、彼我の貿易船の往来は、しだいに多きを加えた。ことに幕府は積極的に保護貿易策をとり、將軍の公許状を得た(9)は南洋に活躍、各地にe)日本人町が形成された一方、1604年には早くも(10)制度を定め、ポルトガル人による貿易を統制したので、日本は東洋における貿易の主導的勢力となつた。

問A 上の文章のカッコ内にもつとも適当な語を補ない、番号にしたがつて解答欄Aに記入せよ。

問B 上の文章のうち下線を付してある部分(a~e)にもつとも関係のある事項を下記の語群の中から、おのおのの一つを選び、その記号を解答欄Bに記入せよ。

語群

- イ、間宮林蔵 ロ、鎌倉幕府 ハ、肥前国 ニ、後藤祐乗 ホ、山田長政 ヘ、桂庵玄樹 ト、山名宗全 チ、慈照寺 リ、李成桂 ヌ、伊東満所 ル、鉄砲伝来 ヲ、鹿苑寺 ワ、支倉常長 カ、沈惟敬 ヨ、貞永式目 タ、キリスト伝来

II、つぎに江戸時代の学問・教育に関する五つの文がある。そのそれぞれにもつとも関係に近いと思う事項を下記のA B 両語群の中からおのおの一つずつ選び解答欄に記入せよ。

- (1) 江戸時代の將軍は、家康以下15代続いた。このうちには、吉宗のような実力のある政治家もいたが、学問を好み、家臣にみずから経書を講じた者もあつた。(2) 江戸時代の武士の学問は、儒教的な道德観が根底に存したが、民間にもこれにもとずいた実践的な教えが普及していた。(3) 江戸幕府は、はじめから儒教を支持したが、やがて政治的な目的から学問の統制を行ない、とくに一つの学派を奨励し、これに反対する学派を極力おさえる方針をとつた。(4) 江戸幕府は洋学に対しても圧迫を加えた。シーボルト事件などは、その代表的なものである。(5) 江戸幕府は幕臣の教育のために学校を設けた。諸藩もこれにならつて学校を設けた。それらのうち、岡山藩の藩校は最も有名である。

A語群 家綱、柴野栗山、池田光政、家斉、石田梅岩(巖)

綱吉、高橋景保、新井白石、前野良沢、山鹿素行 B語群 水戸学、懷徳堂、鳴滝塾、異学の禁、心学、禁書令、陽明学、湯島の聖堂、蕃書調所、閑谷学校 III、つぎの文は、ある国からもたらされた書簡の一部を和訳したものである。下線を付してある文に関する設問a~e およびfについて答えよ。

ちかごろ、イギリス国王よりシナ帝国に対し、兵を出してはげしく(a)戦争せし本末は、(b)わが国の船、毎年長崎に至りて呈する(c)風説書を見られてすでに知り給ふべし。威武盛んなるシナ帝国もまたまた戦ひて利あらず、ヨーロッパ州の兵学に長ずるに辟易(へきえき)し、つひにイギリスと和親を約せり。これよりしてシナ古来の政法基だ錯乱(さくらん)し、海口五処を開きてヨーロッパ人交易の地となさしむ。(中略)謹んで古今の時勢を通考するに、天下の民は速(すみ)やかに相親(あいした)しむものにして、その勢は人力のよく防く所にあらず、蒸汽船を創製せるより以来、各国相ひ距(へだ)たること遠くともなほ近きに異ならず。かくの如く互ひに好(よし)みを通ずる時に當つて、なほ国を鎖(とざ)して万国と相親しむざる人の好みとする所にあらず。(c)貴国歴代の法に異国の人と交りて結ぶことを厳禁し給ふは、ヨーロッパにあまねく知る所なり。(中略)殿下に丁寧(ていねい)に忠告する所なり。今、貴国を幸福なる地として兵乱のために荒廃せざらしめんと欲せば、異国の人を厳禁する法を弛(ゆる)め給ふべし。これもとより誠意に出づる所にしてわが国の利を謀(はか)るにはあらず。それ平和を行ふを懇(ねんごろ)に、好みを通ずるは交易にあり。冀(こいねがわ)くは叡(えい)知をもつて熟計し給はんことを。(下略)

註 シナー—中国、辟易—よわりたじろぐ、錯乱—みだれる、叡智—すぐれた知恵

- 問a、この戦争を何とよぶか。 問b、わが国とはどこを指すか。 問c、風説書とはいかなるものか。 問d、和親を約した条約を何と呼ぶか。 問e、この事からは何世紀の初、中、末期のいずれか、解答欄の正しいと思う箇所をカッコで囲め。 問f、この書簡のもたらされたのは何世紀の初、中、末期のいずれか。解答欄の中の正しいと思う箇所に△をつけよ。

経済学部

I、つぎのA B二つの文章のカッコ内に適当な語を入れよ。解答は番号に従つて解答欄に記入せよ。

- A). 鎌倉時代に(1)により臨済宗、(2)により曹洞宗が伝えられ、その簡素・質実な宗風は武士の気風になつて、主として武家の間に迎えられた。中でも北条(3)は宋から(4)を招いて鎌倉に建長寺を建て、北条(5)は無学祖元を招いて(6)を開いた。こうして臨済宗は幕府の特別な保護を受けて盛んとなり、室町時代初期にも足利尊氏の尊信を得た(7)や、その他の名僧が輩出した。尊氏は後醍醐天皇の冥福を祈つて(8)を建立し、足利(9)も義堂周信を尊信し、中国の官寺制にならつて(10)の制を定め、保護を加えた。 B). 明治時代の財閥には、古河、三井、安田、住友、三菱などがある。これらのうち(11)や(12)は江戸時代におこつて、それから引きつづいて明治にいたり、大いに発展した。しかし(13)は(14)によつて、明治のはじめに創始された

ものであり、海運にまず勢力を占めた。銀行業では(15)が先鞭(せんべん)をつけ、鉱山業では(16)や(17)が有名である。このほか、明治初期の財界の指導者には明治(18)年の北海道開拓使官有物払下問題に関係した(19)のような人物もいた。この事件で政府部内ではただひとり(20)が反対し、その職をやめさせられた。

II、つぎの文を読み、下記の設問に答えよ。

吉宗は祖法にもとずく封建機構の強化を図るため、幕政の改革を行なつた。(1)公事方御定書を定めて法的支配を確立し、(2)足高の制を定め人材を登用、政治の刷新を図り、(3)室鳩巢の議により(4)目安箱を設けて下意上達の道を開き、また新田の開発をはじめ、いろいろ殖産興業につとめた。が、幕府財政の安定の為に(5)定免法といつて平均収穫高を必ず貢納せしめる方法をとつたことは、かえつて農民を苦しめる結果となつた。

問A 上記の文の下線のある部分の読み方を平仮名で番号に従つて解答欄Aに記入せよ。

問B 上記の文は吉宗の改革について述べているが、彼の治績としてなお付け加えたらよいと思われるものを、下記の語群の中から二つ選び出し、その記号を解答欄Bに記入せよ。

語群

- イ、棄損令 ロ、上地令 ハ、薪水令 ニ、上げ米ホ、禁書令の一部解除 ヘ、踏絵の廃止

問C 江戸幕府の三大改革をおのおの何と呼ぶか、古いものの順に解答欄Cに記入せよ。

III、つぎの文は、いずれも日本と中国との交渉に関する史料の一部である。下記の設問に答えよ。

- A). 朕、惟(おも)ふに古へより小国の君、境土相ひ接するは、なほ請信修睦(あいしたしむ)に務む。いわんや我が祖宗、身を朔北(さくほく)に起し、我に至りて天の明命を受けて、中国を奄有(たもつ)す。(中略)高麗(こうらい)は朕(ちん)の東藩なり、日本は高麗にちかし。開国以来また時に中国に通ぜり朕が躬(み)に至りては、一乗の使ひの、以て和好(よしみ)を通ずるなし。なお恐る、王の国これを知ること未だ審(つまびら)かならざるを。故に特に使を遣し、書を持して朕が志を布告せしむ。冀(こいねがわ)くは自今以往(いまよりさき)、間を通じ好みを結び、以て相ひ親睦せんことを。かつ聖人は四海を以て家となす。相ひ通好せざるは、あに一家の理ならんや。以て兵を用うるに至りては、それ執(いず)れか好む所ぞ。王、それこれを図れ。 B). 今、汝を以て親魏倭王となし、金印紫綬を假し、装封して帯方郡の大守に付して假授せしむ。 C). 爾(なんじ)すでに六十余才、寿命いくばくぞ、子いまだ十才ならず。孤弱なををかたのまん。(中略)一旦諸島に内変あらば、すなわち清正ら諸將、おのおの王たらんことを思はん。あにあえて久しく爾(なんじ)の子の下に居る者あらんや。理性を以てこれを論ずれば、爾(なんじ)すみやかに兵をやめて朝鮮と修好するに如(し)かず。 D). 大業三年、その王多利思比孤(たりしひこ)、使ひを遣して朝貢す。使者曰く「海西の菩薩(ぼさつ)天子、重ねて仏法を興すと。故に遣して朝拜せしめ、かねて沙門(そうりよ)数十人來りて仏法を学ぶ」と。その国書に曰く「日出づる処の天子、書を日没する処の天子に致す、恙(つつか)無きや云々」と。帝、これを見(み)て悦(よろこ)ばず、鴻臚卿(こうろき)

Advertisement for Morinaga Gold and Crown Milk Chocolate. Text: ドチラがおスキ? ミルクのムード<クラウン> カカオのビート<ゴールド> 森永チョコレート ゴールド | クラウン 超厚型 30円 50円 100円

Advertisement for Mizzak Records. Text: レコード Mizzak 岡崎天盛堂 上野中通り TEL. (831)4740・6407 (866)8361

せ。

アロー号事件 国民会議派 太平天国 ティムール 戊戌の政変 マラータ人

問8. 19世紀のなかばすぎに東インド会社によるイギリスのインド支配に対して、大規模な反乱が起つた。この反乱の名称をA欄に記せ。また19世紀の末に中国に起つた排外運動の名称をB欄に記せ。

問9. いわゆる五・四運動がこれに該当するが、この運動の参加者もつとも強くとなえたスローガン(要求事項)を記せ。

問10. 今日、アフリカと中南米において、ナショナリズムの運動が重大な国際問題に転化しつつある事例(国家または地域名)を、アメリカはA欄に、中南米はB欄にそれぞれ一つずつ記せ。

III、第一次世界大戦後、国際協調の精神が高まると、列国間には軍備縮小のため、多くの会議が開かれ、条約が結ばれた。下記の1〜4の文章には、つぎに列挙する会議や条約について、その意義またはおもな内容を述べてある。各文章がどの会議・条約に該当するかを、A欄に符号で記せ。また、各文章に対応する設問1〜4の解答をB欄に記せ。

- イ、ワシントン(1921〜22)
- ロ、ロカルノ条約(1925)
- ハ、不戦条約(1928)
- ニ、ロンドン会議(1930)

1〜4の解答をB欄に記せ。

1. 国策の手段または国際紛争解決の手段として戦争に訴えないことを約束し、まず15カ国が条約に調印したが、ソヴェト連邦は条約の討議から除外された。
2. イギリス、フランスのドイツに対する態度は、これを機会に強硬政策から協調政策へ転換された。
3. イギリスのマクドナルドが海軍軍縮を達成するために、条約の成立を強く主張した。
4. 日本の大連進出政策は、この機会にアメリカを中心として形成された列強の統一戦線のために、後退せざるを得なくなった。

問1. ソヴェト連邦では、このころ最高指導者の交代がみられ、それにともなつて、新たな経済政策が採用された。a欄に旧指導者、b欄に新指導者名、c欄に政策者名を記せ。

問2. ドイツが第一次世界大戦敗北の結果課せられた、賠償支払義務を十分に遂行しなかつた時、フランスはいかなる報復処置に出たか。10字以内で記せ。

問3. 当時イギリスでは、マクドナルド首相とする内閣が成立していたが、世界的な経済情勢悪化のため、苦境におちいつた。この内閣を構成した議会多数党の名をa欄に記せ。また経済情勢悪化の発端となつた事件をb欄に記せ。

問4. 日本とイギリスとの外交関係には、これを機会に1つの変化が生じた。この変化について、10字以内で記せ。

社会学部

I、つぎの文はエジプトの歴史をのべたものである。文中のかつこに適合する語を記号にしたがつて解答欄に記入せよ。

エジプトでは紀元前3000年ごろから統一国家が生まれ(1)

よばれると歴代の専制君主が支配した。このように古くから文明が発達したのは、古代ギリシヤの歴史家(2)がいつたように「ナイルのたまもの」であつた。紀元前332年に(3)がこゝを征服し、彼の後継者がプトレマイオス朝として統治した。その間、首府(4)市は(5)文化および地中海商業の中心として繁栄した。この王朝最後の君主(6)は、紀元前30年にローマの(7)にほろぼされ、エジプトはローマ領となつた。

7世紀になるとマホメットの後継者、第二代目の(8)がアラビア人をひきいてこゝを征服し、エジプトはイスラム教の世界に編入された。13世紀から(9)朝が支配したが、16世紀以後は(国名A)の支配下に入った。

フランス革命ののちに(10)のエジプト遠征がおこなわれた。彼の軍事行動は成功したとはいえないが、彼のひきいた学術研究隊は大きな成果をあげた。象形文字解読の鍵となつた(11)もこのときに発見された。19世紀のはじめに(12)がエジプトの太守となり、国内の近代化をはかり、外では(国名A)と争つた。1841年に列強の干渉のもとで和約が成り、(国名A)の宗主権のもとで太守の地位の世襲が認められた。この間エジプトを支持していたのは(国名B)であり、1869年の(13)の完成も同国の(14)の手によつてなしとげられた。しかしこのような近代的施設の整備をめぐつてエジプトの財政が困難となつたのに乗じて、(国名C)の首相(15)は運河株を引受けて実権を植へつけた。1882年に暴動が生ずると(国名B)が干渉しなかつたのに対し、(国名C)は単独でエジプトを占領し、以後財政管理権を独占し、軍隊を駐留させた。こうしてエジプトの中心都市(16)をひとつの拠点とする3C政策が推進されることになつた。

第一次世界大戦にエジプトの宗主国(国名A)がドイツ側について参戦すると、(国名C)はこゝを保護国とした。(17)講和会議ではこの事態が保たれることになつたが、民族独立の運動が高まつて、1922年には留保条件つきで独立し、翌年の憲法で立憲王国となつた。

第二次世界大戦後の1948年パレスティナのユダヤが(18)共和国の独立の宣言をすると、エジプトはアラブ諸国と結んでこれに対抗し、ナショナリズムが一段と高揚した。1952年革命によつて王政が倒れ、共和国が成立した。やがて(19)が大統領となつて新しい国づくりに着手し、1958年には(20)と合併してアラブ連合共和国を建設した。

II

1. 二つの国家が同一君主のもとで連合することを同君連合といい、この形は近代ヨーロッパの歴史にしばしばあらわれている。つぎの表はその有名なものを列挙したものであるが、空欄A、B、……F、Gに適合する支配国名を記号にしたがつて解答欄に記入せよ。同一君主が別々の国で異なる名称でよばれるばあひがあるから注意せよ。

君主名	在位年代	備考	支配国名
イ、カルロス1世	1516〜1556	王	スペイン
カール5世	1519〜1556	皇帝	A
ロ、フェリペ2世	1556〜1598	王	B
フェリペ1世	1580〜1598	王	ポルトガル
ハ、ジェームズ6世	1567〜1625	王	スコットランド
ジェームズ1世	1603〜1625	王	C
ニ、フリードリッヒ・ヴィルヘルム	1640〜1688	大選帝侯公	D プロシア

ホ、ゲオルグ・ジョージ1世	1698〜1727 1714〜1727	選帝侯 王	ハノーヴァー E
ヘ、アレクサンドル1世	1801〜1825 1815〜1825	皇帝 王	ロシア F
ト、フランツ・ヨーゼフ1世	1848〜1916 1867〜1916	皇帝 王	G ハンガリー

2. A、上記の君主の治世の末年に、宗教改革史上に重要な和議が達成された。その和議の名を記せ。
- B、ロの治世に、この君主の支配から独立を宣言した国がある。その名を記せ。
- C、ハの治世に、有名な船によつて北アメリカへの植民がなされた。その船の名を記せ。
- D、ニは宗教に関して寛容政策をとつたので、フランスから多くの人びとがその領内に移住した。それらの人びとはなんとよばれるか。
- E、ホの治世のとき、議会で多数を占めたウィッグ党のかしらウオールポールが、行政においても重要な役割を演じた。彼のもとで成立した組織はなんとよばれるか。
- F、ヘのアラスカ進出に対してアメリカは自国の立場を明らかにする必要に迫られたといわれる。そのアメリカの立場はなんとよばれるか。
- G、トの同君連合の成立の同年(1867)に、ドイツ民族の世界に新しい国家組織が成立した。その国家名を記せ。

III、つぎの五群の事項は、各群ごとにA、B二組より成り、異つた国々における類似した歴史の動きを示している。例にならつて以下の設問に答えよ。

問1. 各群の一つずつ設けられたかつこ内に、もつとも適切な事項が入るように、A欄に記入せよ。

問2. 各群二組の歴史の動きの間に認められる共通の特色(国々の歴史の間に認められる一般の傾向)を、B欄に20字以内の短文で説明せよ。ただし説明に当つては、末尾の語群から各文ごとに一つずつ適当な語をえらんで、文中に使用せねばならない。

例 {A、アングロサクソン人のイギリス侵入→七王国成立 B、( )→メロヴィング朝成立}

- 1 {A、ヴァスコ・ダ・ガマのカリカット到着→香料の輸入 B、( )→銀の輸入}
- 2 {A、前期ステュアート朝の専制政治→( ) B、ブルボン朝の旧制度→フランス革命}
- 3 {A、対ナポレオン戦争→プロシア宰相シニャイン、ハルデンベルクの改革 B、( )→ロシア皇帝アレクサンドル2世の改革}
- 4 {A、アヘン戦争→( ) B、黒船来航→日米修好通商条約}
- 5 {A、( )→エチオピア戦争 B、ナチス政権成立→オーストリア併合}

語群 民族大移動(例) 後進国近代化、産業革命、社会主義、世界貿易、市民革命、対外侵略、冷たい戦争、不平等条約

日本史問題

丸ビル千足屋

電話 和田倉(201) 3758 0650 東京(281)1568(宿直)

AHappy New Year

趣味の洋品雑貨

ウイスタリア

SHINJUKU



高田馬場駅前 山手自動車教習所

免許証取得 安くて早くとれる方法で

自動車責任教習

学生割引

車種	入会費	30分教習
普通車	100円	320円
軽四輪車	100円	250円

TEL (361) 3 9 2 5

獲得した。同年10には11が発見されいゆる12がおこつた。その結果、人口は一躍10万に達し、1850年には10は州に昇格した。その後、同地に農業が栄えたが、労働力として13を必要としなかつた。これに反し、南部は13労働にもとづく大14制農業にたよつていたから、10や15革命の急速に進展していた北部とは利害を異にした。その結果1861年南北戦争がおこつた。

- 4. 19世紀の歴史的特色の中にはつぎのようなものがある。
  - い、自由主義の勝利
  - ろ、国民国家の成立
  - は、帝国主義の開始
  - に、資本主義の発展

問A、イタリアの統一はこの特色のどれと最も関係が深い。記号で答えよ。(以下同じ)

問B、ロシア農民の無産階級化はこの特色のどれと最も関係が深い。

問C、南北戦争の結果、北部が勝つたことはこれらの特色のどれと最も関係があるか。

Ⅲ、つぎの1から13までの間に答えよ。時代の示し方は世紀を用いても、中国の王朝名を用いてもよろしい。

1. 史記という本は、誰が、いつごろ、書いたか。
2. 金瓶梅という本は、いつごろの作品であるか。
3. 阿Q正伝という小説の作者は、誰であるか。
4. 各都県に中正という職をおいて郷里の人材を九等に評価させ、その中央に推挙した者を官吏に任用する制度は、いつごろ定められたか。またこの官吏任用法を何とよんでいるか。
5. 清の雍正帝の定めた有名な税法は、何をいう税法であるか。
6. ポルトガル人が中国との貿易をおこなうにあつて、その根拠地としたところは、どこであるか。
7. 漢の武帝は朝鮮半島統治のため四郡を設置したが、そのうちのA郡は400年あまりもつづき、東方諸国へ中国文化を伝えた。このA郡は何郡であるか。またA郡の郡治の置かれたところは、こんにちのどこであるか。
8. 南北朝時代の中国の仏教遺跡で有名なものを、二つあげよ。
9. 唐時代に信ぜられた外来宗教の名を三つあげよ。
10. 利瑪竇という中国名を名のり、カトリック教の布教に従事するとともに、西学學術の輸入、紹介につとめたイタリア人の宣教師は、誰であるか。
11. 漢の武帝の使者として大月氏におもむき、匈奴をはさみうちすことを勧誘した人物は、誰であるか。
12. キリスト教をとりいれて上帝会を組織し、徒党を広西の一角に会して清朝打倒、理想的社会の建設をめざす一大運動を指導した人物は、誰であるか。
13. 隋の統一事業のうちことに注目すべきものは、大運河を開いたことである。この結果につき、つぎの諸項目のうち最も適切なものを選び、その符号を記せ。
  - イ、首都北京と貿易港廣州は結びつけられた。
  - ロ、揚子江下流域の米産地帯と長安や洛陽などの消費都市は結びつけられた。
  - ハ、揚子江流域のひとびとの華北一帯の各地への移動が目だつて多くなつた。

法学部

I、西洋史における都市の発展について、以下の設問に答えよ。

1. 古代ギリシヤの代表的な都市国家であるアテネはペルシア戦争に勝つて全盛期を迎える。
  - イ、戦後のアテネは、この戦争中にペルシア軍の再度の来襲にそなえて諸ポリスの間に結ばれた同盟の盟主として、諸ポリスに君臨するいきおいを示した。その同盟の名を記せ。
  - ロ、国内では民主化が徹底した。戦後のアテネの民主政を完成させた政治家の名を記せ。
- ハ、つぎの文中の並記された箇所をくらべて正しい方を選び、記号で答えよ。アテネは民主政が徹底すると
  - (A)、市民であることが大きな特権を意味するようになったので、市民権をもつための資格が厳重になり、市民団は閉鎖的になつた。
  - (B)、なにびともいかなる種類の差別をうけることなく権利と自由とを与えられることになり、市民団は開放的になつた。
2. 典型的な中世都市が成立するのはおよそ12世紀ごろからである。
  - イ、つぎの文中に並記されている語句のうち正しいものを選んで記号で答えよ。
    - A、これらの都市は (a 商人や職人 b 戦士すなわち騎士 c 聖職者)
    - B、都市ははじめ封建領主の支配下にあるが (d ギルド e 騎士団 f 教会) を中心に実力をのばし、領主から自治権をかちとる。
    - C、都市共同体が法的に成立すると住民は自由民とみなされ、これは荘園内の (g 奴隷 h 農奴) の都市への逃亡をうながした。
    - ロ、都市の自由や国の都市によつて異なる。つぎの文がイギリス、イタリア、ドイツのどれにあてはまるか、それぞれの国名を解答欄に記せ。
      - D、ほとんど完全独立の都市国家を形成した。
      - E、中央権力が弱いため自由都市の地位を得て、市会の権能も大きかつた。
      - F、王権が強いため特許状によつてある程度の自治を得たにとどまつた。
    - ハG、上記の都市の繁栄は東西交渉史上の大事件によつてうながされた。その事件は何か。
    - H、上記の都市は都市同盟を結んで強い勢力を張つた。その都市同盟の名を記せ。
    - I、上記Fの国では13世紀のはじめに貴族たちが国王に迫つて彼らの権益を確保することに成功したが、そのさい貴族たちは市民を味方につけていたので、同時に市民の利益になるような規定もかちとられた。その文書はなんとよばれるか。
  - 3. 近世以降は都市は国家の興亡を代表する地位を占める。
    - イA、近世初頭ポルトガルの興隆のさい、その港市として繁栄した都市の名を記せ。
    - B、スペインの港市の繁栄をもたらした貿易はおもにどの地域を対象としたか。
    - ロC、やがてオランダが世界商業の王者となつたときそ

の港市として繁栄した都市の名を記せ。

- D、その港市の繁栄をもたらした貿易はおもにどの地域を対象としたか。
- ハE、イギリスは18世紀後期に新しいタイプの工業都市が繁栄する。この時期に発展した新しいタイプに属する都市の名を一つあげよ。
- F、新しいタイプの工業都市を出現させるきつかけとなつた経済的変動はなんとよばれるか。

II、つぎの文を読んで、下記の設問に答えよ。ただし、設問の番号は、文中の下線の部分の番号に対応している。

(1)ナショナリズムは、時と所を異にするにしたがつて、世界史の上にさまざまな形で展開した。ヨーロッパの先進国であるイギリスやフランスは、(2)すでに絶対主義の時代に、民族国家としての統一を達成し、(3)ついで市民革命によつて、国民の利益を内外の圧制から守る自由な社会体制を目ざし、大きく前進した。しかし、ドイツやイタリアのような後進国では、個人の自由をかち得るために、まず民族の自由、統一を実現せねばならず、結果的には、(4)国民国家建設というさしませまつた目的のために、個人の自由が少なからず犠牲にされることになつた。また、ロシア、オーストリア、トルコなどの諸帝国の支配下におかれた (5)弱小民族は、ようやく第一次世界大戦後、(6)民族自決の原則にもとづいて、独立を認められはじめた。

他方アジアのインドや中国におけるナショナリズムは、まず (7)ムガル帝国や清朝の支配に対する反抗運動にはじまつたが、ヨーロッパ資本主義列強の進出が激化するにともない、(8)いつそはげしい排外運動をみるに至つた。そして列強の帝国主義支配のもとで第一次世界大戦前後に民族資本家と労働階級が成長すると、中国で(9)反帝国主義民族運動が勃発した。さらに第二次世界大戦をへて、10ナショナリズムの嵐はアジア、アフリカ、あるいは中南米など世界各地にひろがりつつある。

- 問1. ナショナリズム (Nationalism) という英語はさまざまに訳されるが上の文中の用語としてもつともふさわしい訳語を二通り記せ。
- 問2. イギリスで15世紀の後半に起つた内乱の名称をA欄に、この内乱を平定して、国家統一をもたらした王朝名をB欄に記せ。
- 問3. 革命前のフランス国内における圧制の担い手は、どのような身分、階級の人々であつたか。25字以内で記せ。
- 問4. 1871年のドイツ帝国統一の功労者ビスマルクは、一般に鉄血宰相の名で呼ばれるが、その由来(いわれ)を25字以内で記せ。
- 問5. つぎの諸国家は、第一次世界大戦以後独立を認められたが、かつては、ロシア、オーストリア、トルコ三帝国のいずれかの支配下におかれたものである。旧支配国名を該当欄に記入せよ。
  - a. チェコスロヴァキア
  - b. エジプト
  - c. フィンランド
  - d. ハンガリー
- 問6. 第一次世界大戦後の平和再建のために、民族自決の原則を強く主張した政治家の名をA欄に記せ。またこの原則に立脚した、その政治家の声明の名称をB欄に記せ。
- 問7. つぎの諸事項のうち、ムガル帝国に対する反抗運動と関係の深いものをA欄に、清朝に対する反抗運動と関係の深いものをB欄に、それぞれ一つずつ記

満洲の思い出を集めて 東京で一番旨い



餃子會館

- (新宿) 歌舞伎町西武新宿駅前 (本店) (368) 6 6 0 3
- (新宿) 歌舞伎町西武新宿駅前 (支店) (371) 4 3 6 9
- (新宿) スケートリンク横 味の街2階 (368) 5 4 9 1
- (新宿) 柏木鬼子母神横登記所通支店 (369) 4 8 5 3
- (池袋) 南口東上線改札口前 (971) 4 9 8 5
- (有楽町) 西銀座デパート地階売店
- (芝公園) 東京タワー2階売店
- (事務所) 東京都新宿区百人町2-57 (369) 5 4 1 7

1枚の証券で... 10倍の動きをする...

理想の災害保険は

日産の住宅総合保険

- たった1口の契約で・火災・はもちろん
- ・落雷・爆発破裂・盗難・自動車の突入・
- ・騒ぎよう暴行・航空機のつい落・風水害・
- ・住居焼失・災害時の傷害など10種の災害に
- 対し保険金をお支払いする理想の保険です



●月掛住宅総合保険も取扱っています●

日産火災海上

●第一報次書資料をお送りします●

本店 東京都中央区日本橋通1の6 電話 東京 (211) 2 3 6 1 (大代表)

世界のトップレベルをゆく

The Japan Times

1カ月 ¥ 450



今週の話

Weekly

1カ月 ¥ 150

お申し込みは朝日新聞販売店又はジャパンタイムズ本社へ

ジャパンタイムズ 本社 東京都千代田区外神田一ツ橋 大隈支社 大塚市北区内中之島三丁目



4. He is ( ) great danger
  5. He talks ( ) if he were my friend
- (B)
- a. because he had been encouraged by his teacher.
  - b. after the horse has been stolen.
  - c. it was in want of real glory.
  - d. who being sick thinks himself well.
  - e. though he is not.

IV. 次の文を英訳せよ。

列車が沼津駅に着いた。私の乗っている車両から数人の客がホームに降りたが同じ数ぐらいの乗客が入って来た。

# 世界史問題

## 文学部

I. つぎの文中の ( ) の中に該当する語を、下記の語群中よりえらび、その記号を、解答欄Aの(イ)に、また、□の中にあてはまる数字を、解答欄Aの(ロ)に、それぞれ記入し、さらに下線の部分について、なぜ1000年以上も権威ある学説とみなされたか、解答欄Bに40字以内にまとめて答えよ。

前 [a] 世紀頃から(1)人の勢力を追いはいつづ(2)の海上商業に進出した(3)人は、はやくから星によつて方位を見定めることを学んだが、彼らが南北に動くと共に、彼らの頭上にある星空の模様もまた変つてくる事実が驚異をおぼえた。このなぞをはじめ解いたのは、サモス島出身の(4) [前582-593頃] の学派の(5)説である。その(6)時代に入つて、おなじくサモス島のアリストタルコス [前280頃] は、はじめはつきりと地球は自己の軸を中心に回転しつつ太陽の周囲を回るといふ太陽中心の(7)説を提唱した。しかし、2世紀アレクサンドリアに(8) [150頃] があらわれ地球は宇宙の中心に静止していると説いてから、彼の説は1000年以上も永く権威のある学説とみなされていたが、(9)時代に入つて、コペルニクスは、マリスタルコス同様地球に「公転」と「自転」とを仮定することによつて、従来の(8)の学説すなわち地球中心の(10)説に内在する矛盾を完全に解決した。そして古代の(4)学派の提唱した(5)説は、[b] 世紀のはじめ(11)の「世界周航」によつて実証され、(7)説も、17世紀中葉からしだいに一般的に承認されてゆき、18世紀以降19世紀中葉までに実証されることとなつた。

語群 い、天動 ろ、地動 は、大地球形 に、アルキメデス ほ、ルネサンス へ、ピタゴラス と、ローマち、プトレマイオス り、ギリシア ぬ、フェニキアる、コロンブス を、クレタ お、マジエラン か、ヘレニズム よ、エウクレイデス (ユークリッド) た、東地中海 れ、西地中海

II. つぎの1-4からまでの文をよんで、数字を付した空欄に下記の語群中より適合するものをえらび、その記号をもつてA欄に答えよ。またa、b、cの記号を付した空欄には適当な語を考へてB欄に記入せよ。また3と4にそれぞれ関連した5と6の間の答をC欄に記入せよ。

1. アメリカ合衆国における19世紀前半の発明の特色は(1)機械の発明にある。この種の機械は当時もつとも(2)の不足を痛感していた農業においてみられる。(3)はその一例である。同世紀の後半になると、生活向上のために(4)な発明が多くあらわれた。その一例はa \_\_\_\_\_ である。
2. 19世紀の後半においては、それ以前の(5)的傾向がかわ

つて現実的、(6)的な傾向が支配的となり、文学では(7)文学がおこつた。このような傾向を示す文学者にはフランスのb \_\_\_\_\_、ロシアのc \_\_\_\_\_ などがある。

3. 米西戦争後のアメリカ合衆国は(8)海政策に積極的となり最近問題になつて(9)を保護国にしたのをはじめ、(8)海周辺の小国に対して干渉した。1903年(10)は(11)から独立し合衆国はこの国から運河地帯を永久租借権をえた。(12)年(10)運河は開通した。

4. 13年8月ドイツでは(14)憲法とよばれる共和国憲法が發布された。この憲法は当時もつとも民主的な憲法として知られていた。新政府は大統領(15)の属する社会民主党とその他のブルジョア政党の連立内閣で、資本主義国家として再建されることになつた。

語群 い、労働力 ろ、労力節約 は、資本 に、技術ほ、実用的 へ、民主的 と、刈取機 ち、綿繰機り、自由主義 ぬ、実証主義 る、理想主義 を、自然主義 わ、ロマン主義 か、ワイマール よ、ベルリン た、ポツダム れ、ニカラグア そ、カリブつ、パナマ ね、スエズ な、コロンビア ら、キニーバ む、エーベルト う、ヒルデルブルグ る、1914 の、1917 お、1919

5. アメリカ合衆国のラテンアメリカ諸国に対する総合的な政策を何と云うか。またドイツおよびロシアの民族を中心とした同様な政策を何とよぶか。

6. ヒトラーの独裁政権の成立を許した国内事情を40字以内で説明せよ。

III. つぎにかかげるA群の人名にもつとも関係の深いものを下記のB群の中から、該当する時代をC群の中から一つずつえらび出して、それに付した記号で解答せよ。(ただしC群においては同一の時代が二度以上使用されることもありうる)。

A群 1 郭守敬、2 康熙帝、3 荀子、4 宋応星、5 徽宗  
6 顧炎武、7 林則余、8 班超、9 文井、10 昭明太子

B群 イ、不草綱目 ロ、兼愛説 ハ、院画 ニ、北京条約 ホ、日清戦争 ヘ、仏国記 ト、四庫全書チ、文選 リ、アヘン戦争 ス、安東都護府 ル、アロー戦争 ヲ、考証学 ワ、崇禎曆書 カ、ネルチンスク条約 ヨ、授時暦 タ、齋民要術 レ、天津条約 ソ、安西都護府 ツ、性悪説 ネ、天工開物 ナ、性善説 ラ、南海寄帰内法伝 ム、唐詩選ウ、女史鏡図 キ、大唐西域記 ノ、訓詁学 オ、朱子学 ク、詩経 ヤ、文人画 マ、西域都護

C群 い、明 ろ、元 は、南北朝 に、唐 ほ、前漢へ、後漢 と、戦国 ち、秦 り、王代 ぬ、中華民国 る、南宋 を、北宋 わ、三国 か、清よ、隋

## 経済学部

I. つぎの1から5までの文章を読み、そのおのおのについて、(a)それは誰の言つたことばであるか、(b)彼はどこの国(土地)の人物か、(c)そのことばを彼が述べたのはいつごろか、—まず(a)と(b)については、下記のA群、B群中より適当なものを選びその記号をA欄、B欄に記入し、つぎに(c)については、何世紀の初期、中期、末期というように、C欄に記入せよ。なお、B群に限つて、同一記号を繰り返して使用することができる。

1. 本書のもくろみはきわめて簡単で、ただ三つの問題を取り扱つてもりである。すなわち、(1)第三身分とは何か。それはすべてである。(2)今日までその政治的地位はいかなるものであつたか。それは無であつた。(3)それは何を求めるか。相当なものになることである。これらの解答の正否はやがて明らかにされるであろう。

2. けれどもそう決心するや否や、私がそのように一切を虚偽であると考えようとするかぎり、そのように考えている「私」は必然的に何ものかでないならばぬことに気づいた。そして「私は考える、それ故に私はある」というこの真理……を私の探求しつづつた哲学の第一原理として、ためらうことなく受けとることができると、私は判断した。

3. 私がフイレンツェの学院の教授たちに、私の望遠鏡で木星の衛星を見せようと願つたところ、彼らは衛星をも望遠鏡をも見ようとはしませんでした。この人たちは探究すべき真理は自然中にはなく、ただ本文の比較照合の中のみあると信じているのです。

4. 時は金なることを思へ。一日の労働で10シリングをもうけける者が、散歩のためや自宅でなまけて過すために半日を費すときは、たとえ娯楽のために6ペンスしか支出しなかつたとしても、それをそれだけと計算してはならない。彼は、そのほかになお5シリングの貨幣を、支出したというよりもむしろ放棄したのである。

5. われわれはキリスト者につきのことを教えねばならない—貧窮な者を見ながらこれを無視して免罪符(贖宥状)(しよくゆうじょう)のために金を出す者は、教皇の免罪符を手に入れているのではなく、神の憤怒を入手していることを。—有り余るほど豊かでない限り必要なものを己が家庭に保持しなければならないことを、そして免罪符のために大金を費すようなことを決してしてはならないことを。—免罪符の購入は各自の自由であつて、命ぜられてはいないことを。

A群 1. ガリレイ 2. アダム=スミス 3. ルター(ルーテル) 4. フランシス=ベーコン 5. アペーシエイニス 6. ケプラー 7. フランクリン 8. ラニフアイニツト 9. デカルト 10. カルヴァン(カルヴァン)

B群 い、アメリカ ろ、イギリス は、イタリア に、オランダ(ネーデルランド) ほ、スイス へ、スペイン と、デンマーク ち、ドイツ り、フランス ぬ、ポルトガル

II. つぎの1から3までの文は、今から100年前の1861年に関係のある歴史を記してある。その文中の空欄に該当する語を考へて、番号にしたがつて解答欄に記入し、かつ4の間に答えよ。

1. イタリア半島には小国家が分立し、(1)体制のもとでオーストリアの制圧をうけていたが、七月革命および三月革命の形響をうけて民族統一の運動がおこつた。その後(2)国王(3)2世は首相(4)と共にイタリア統一のり出し、1861年イタリア王国は成立した。

2. ロシアはその位置がかたよつていたから、つねに(5)政策を国策とし、隣接せる老大国(6)の侵略をくわだてた。(7)戦争もその国策にそつたものであつたが、ロシアはイギリス、フランス両国に敗れた。この敗戦は同国の後進性によるものであつたから(8)2世は世論におされて専制政治を緩和し、1861年(9)令を發した。しかしこの(9)は地主や貴族本位におこなわれたために、かえつて農民の貧困と無産階級化をまねいた。

3. 1848年アメリカ合衆国はメキシコから(10)などの土地を

図書出版・各種印刷

# 株式会社 表 現 社

取締役社長 亀田秀夫

東京都板橋区富士見町34

電話板橋4236

## 精選客観テスト

東大助教授 奥幸雄編  
最近の入試に出題されたあらゆる形を網羅したもので、これだけ練習しておけばいかなる大学でも70%の得点は可能である。入試までの短かい時間に一通り学習しておくと、はかりきれない効果がある。  
B5タテ倍判 100頁

## 高校英語研究

1月号 70円

- ◆ 添削返送実力テスト問題
  - ◆ カード式英作文基本文型
  - ◆ 新鴻大・関西学院大・小樽商大・津田塾大突破法
  - ◆ 入試出典作家の文章研究
  - ◆ 語い問の整理と実力テスト時事トピックス
  - ◆ 身につけた英語自由英作文の新着紹介
- ① 人特集  
② これから整理しておきな  
③ 入試英語の常識  
④ 特殊な形式の問題研究  
⑤ 入試頻出熟語の整理と活用  
⑥ 入試予想問題の研究

# 英語問題

## 経済学部

I、次の下線の部分を和訳せよ。

A great nation is not led by a man who simply repeats the talk of the street-corners or the opinions of the newspapers. (1) A nation is led by a man who hears more than those things; or who, rather, hearing those things, understands them better, unites them, puts them into a common meaning; speaks, not the rumours of the street, but a new principle for a new age; (2) a man to whom the voices of the nation unite in a single meanings and reveal to him a single vision, so that he can speak what no man else knows, the common meaning of the common voice.

II、次の文の下線をほどこした部分につき、下の間に答えよ。

Gulliver's Travels is perhaps the sole major work in all English literature that has continuously led a double life; it has been at once one of the most fascinating of children's adventure stories and one of the most acute criticisms of humanity addressed to the mature imagination. This almost incredible marriage of opposites is possible because in the main the disturbing satire for adults lurks inconspicuously behind the pleasantly exciting façade of the explorer's tale; the child can rarely see behind the façade and the adult can never cease seeing behind it or trying to pierce through it.

(注 façade=outward appearance, surface)

(A) ここで言っている opposites の内容を四十字以内の日本語で説明せよ。

(B) どうして marriage が起り得るのか、その要点を四十字以内の日本語で説明せよ。

III、次の語句の中から下の各文の空所(a)-(f)を補うべきものを選び解答欄(省略)に書け。ただし、文脈に応じて適当な語形に変化させること。

- (A) opposites
- (B) marriage

do without get through give way make out make up put up turn up

1. By dint of hard study he (a) for his want of ability.
2. The ice (b) and we all fell into the water.
3. I can't (c) with this toothache any longer.
4. He promised to come but he hasn't (d) yet.
5. As soon as he (e) with his work, he'll join us.
6. In the dark it was hard for us to (f) the numbers on the house.

IV、次の文を英訳せよ。

修学旅行専用列車『ひので号』は春のシーズンを迎えて、また大活躍です。毎朝8時43分、喜びにあふれる中学生の団を乗せて、品川から京都へ向かいます。

## 文学部

I、次の文を和訳せよ。

Just as a tree bears year after year the same fruit and yet fruit which is each year new, so all permanently valuable ideas must be continually born again in thought. But our age is bent on trying to make the barren tree of scepticism fruitful by tying fruits of truth on its branches.

II、次の文を読み、下の間に答えよ。

Mrs. Rogers: I'm so sorry, but the rain's coming in through the skylight. I waited in all the morning for the builder's man. (1) There's really no relying on these people, is there?... I hope the noise won't keep you awake.

Jones: Oh, there's not much fear of (2) that! (3) I'm a pretty sound sleeper. I don't think anything short of an earthquake would wake me.

Wilson: (4) Nor me, either; I can sleep through any thunderstorm.

(A)下線(1)、(2)、(3)、を和訳せよ。

(B)下線(2)の that の具体的内容を日本語で説明せよ。

III、次の左右の文の空所にそれぞれ適当な一語を入れて、文がほぼひとしくなるようにせよ。答は解答欄(省略)に記入すること。

- (1) He thinks it a matter of \_\_\_\_\_ =He takes it \_\_\_\_\_ granted.
- (2) \_\_\_\_\_ where he will, he will be welcomed. = \_\_\_\_\_ he may go, he will be welcomed.
- (3) Would you \_\_\_\_\_ saying it again? =I beg your \_\_\_\_\_
- (4) He does not know English, still \_\_\_\_\_ Latin. =He does not know English, not to \_\_\_\_\_ of Latin.
- (5) This picture does not \_\_\_\_\_ her justice. =This picture is not very much \_\_\_\_\_ her.

IV、次の文を英訳せよ。

ゆるやかに動く雲を眺めていると、遠い故郷の肉親のこと、親しい友だちのこと、その他いろいろな出来事が目の前にはつきり浮かぶ。

## 社会学部

I、次の文を和訳せよ。

Have the courage of your opinions. You must expect to be laughed at sometimes, and it will do you no harm. There is nothing ridiculous in seeming to be what you really are, but a good deal in affecting to be what you are not.

II、次の文を読み、下の間に答えよ。

(1) There are times in every man's experience when some sudden widening of the boundaries of his knowledge has come and seemed to bring with (2) it new life and the inspiration of fresh and splendid endeavour. It may be some great book read for the first time not as a book, but as a revelation; it may be the first realization of the extent and moment of what physical science has to teach us. It brings with it new eyes, new powers of comprehension, and seems to reveal a treasury of latent and unsuspected talents in the mind and heart. The history of mankind has (3) its parallels to these moments of (4) illumination in the life of the individual. There are times when the boundaries of human experience, always narrow, and fluctuating but little between age and age, suddenly widen (5) themselves, and the spirit of man leaps forward to possess and explore its new domain. (6) These are the great ages of the world.

(A)下線の部分(1)を和訳せよ。

(B)下線(2)、(3)、(5)、(6)の語は、それぞれ何をさすか、英語で示せ。

(C)下線(4)の語にもつとも近い意味に用いられている単語(名詞)二つを文中からえらびだせ。

III、次の1-8の各文の空所に入れるべきもつとも適当な語を下記の語群の中からそれぞれ一つえらび、解答欄(省略)にその符号を記入せよ。同一の語を何度用いてもよい。

- a. at b. by c. for d. from e. in f. of g. on h. over i. to j. under k. with l. without

1. His interests are not compatible ( ) mine.
2. I insist ( ) your taking his money.
3. This ticket entitles you ( ) a free lunch.
4. On that day he was prevented by illness ( ) attending.
5. I am friends ( ) him.
6. Thanks ( ) you, I was saved from drowning.
7. We accused him ( ) taking bribes.
8. Baseball is now popular with the nation ( ) large.

IV、次の文を英訳せよ。

ホテルの食堂が開くまでにはまだ時間があった。船から上がった私は、何はともあれ、ひと眠りしたかった。

## 法学部

I、次の文を和訳せよ。

There are those reformers who believe that all human evils when traced to their source will be found to be economic in origin. They assure us that if people are given adequate houses, food, vacuum-cleaners, dish-washing machines and leisure the world's ills will be cured. But when asked what the people will do with their leisure, they can give no answer.

II、下線の部分、(1)、(2)を和訳せよ。

Astronomy began as the servant of astrology when men believed that the study of the heavenly bodies would enable them to predict events on earth. The old astrology is dead, but (1) a few earthly phenomena have been found to depend on the sun and moon. To predict the height of the tides within an inch may seem an unnecessary refinement, but (2) that inch may mean a saving of a hundredth of one per cent in the expenses of a great port, and therefore be amply worth while

(注 astrology 占星術)

III、下の(1)-(6)の文の空所に入れるものにもつとも適当な語、または語句を各文の下に列記したa、b、c、の中から一つ選び、解答欄(省略)にその符号をしるせ。

- (1) It is in the ( ) of a cat to run after mice. a. nature b. habit c. character
- (2) Mr. Y. introduced himself as a member of the ( ) Party. a. Social b. Socialist c. Socialistic
- (3) The policeman ( ) me for a beggar—I was so poorly dressed. a. thought b. recognized c. took
- (4) I won't rise from the table until I ( ) this tempting piece of cake. a. will eat b. ate c. have eaten
- (5) The twin singers look so much ( ) that most people cannot tell them apart. a. like b. alike c. same
- (6) There were only ( ) people in the street—the night was so bitter cold. a. a few b. few c. some

IV、次の文を英訳せよ。

学生生活は、もちろん学問することが第一でしょう。が反面、教師との楽しい交わり、語らいなどが、人格の形成にとって、学問に劣らず大切なことであります。

## 理学部

I、次の文を和訳せよ。

Except a living man, there is nothing more wonderful than a book. A message to us from the dead—from human souls we never saw, who lived, perhaps, thousands of miles away! And yet these, in those little sheets of paper, speak to us, arouse us, terrify us, teach us, comfort us, open their hearts to us as brothers.

II、次の下線の部分を和訳せよ。

ただし、(1)と(2)の中の it が何をさすかわかるように訳すこと。

February winds have a bite, and no doubt about it. (1) And that bite is more than a matter of temperature, though the temperature does give it authority. The winds of winter not only blow stronger; they have more weight, literally, than those of any other season. The reason is that winter's cold air is more dense, (2) there is more of it to the square foot. Those who measure such matters say that a January or February wind may have 25 per cent more force than a July wind of the same velocity. (3) That is one reason the past week's wind could force its way through an overcoat or the walls of a normally weather-tight house.

III、(A)欄の各文の( )内に適当な一語を入れ、かつ、(B)欄の文を(A)欄の文と意味のつづくように結びつけよ。

- (A)
1. It is ( ) late to shut the stable door
  2. Splendid ( ) the Roman Empire was
  3. He worked ( ) harder

### ご存知シリーズ爆笑決定版

淡三淡加柳ア黛渡坂伴フラン森  
島原路東家チひ辺本淳ラン繁  
千葉恵大語ヤかモ三郎久  
景子子介楼コるコ九郎界弥

# 弁 當 前



監督 久松静児  
脚本 長瀬喜伴  
脚本 金原謙  
製作 文一喜雄

東宝の大作  
お正月興行も  
大ホリムラン

東宝

# 知る事は勝利に通ず

## 受験の知識

### 構内は必ず一巡り

#### 直前・当日の過ごし方

入試もいよいよ直前に迫り、諸君は不安と期待の毎日を送っているであろう。試験前一週間頃、多少不安を感じる時はあるにしろ、その強弱ではないものだ。それに各自それぞれのペースで勉強を進めていく。ところが試験前一週間頃、不安の度は急激に高まる。そして、これは二三日前から直前に至る最高となるものである。さて、この大切な直前、この直前をいかに過ごし、当日に諸君が確信を持って出陣する状態を作ることが重要である。以下、少しでも諸君の「ポイント」を述べたい。

#### 一週間前

##### 今までのペースで

この頃になると、持て成したペースで勉強を続ける。余裕を持って、試験前一週間頃、多少不安を感じる時はあるにしろ、その強弱ではないものだ。それに各自それぞれのペースで勉強を進めていく。ところが試験前一週間頃、不安の度は急激に高まる。そして、これは二三日前から直前に至る最高となるものである。さて、この大切な直前、この直前をいかに過ごし、当日に諸君が確信を持って出陣する状態を作ることが重要である。以下、少しでも諸君の「ポイント」を述べたい。

#### 二三日前

##### 十分に気力を養え

この頃になると、持て成したペースで勉強を続ける。余裕を持って、試験前一週間頃、多少不安を感じる時はあるにしろ、その強弱ではないものだ。それに各自それぞれのペースで勉強を進めていく。ところが試験前一週間頃、不安の度は急激に高まる。そして、これは二三日前から直前に至る最高となるものである。さて、この大切な直前、この直前をいかに過ごし、当日に諸君が確信を持って出陣する状態を作ることが重要である。以下、少しでも諸君の「ポイント」を述べたい。

#### 前日

##### 校舎に住めば

今までに大学へ来ていない人は必ず来るべきである。又前日に、諸君もさういふ一度である。この頃になると、持て成したペースで勉強を続ける。余裕を持って、試験前一週間頃、多少不安を感じる時はあるにしろ、その強弱ではないものだ。それに各自それぞれのペースで勉強を進めていく。ところが試験前一週間頃、不安の度は急激に高まる。そして、これは二三日前から直前に至る最高となるものである。さて、この大切な直前、この直前をいかに過ごし、当日に諸君が確信を持って出陣する状態を作ることが重要である。以下、少しでも諸君の「ポイント」を述べたい。

#### 昨日

##### 入試競争率

学部	学科名	志願者数	入学数	倍率
文学部	文学科	30	9	3.3
文学部	日本文学科	1920	128	15.0
文学部	英文学科	514	129	3.9
文学部	心理学科	358	25	14.3
文学部	教育学科	675	121	5.6
経済学部	経済学科	3437	430	7.9
経済学部	経営学科	2567	449	5.7
社会学部	社会学科	2894	269	10.8
社会学部	法学科	3572	482	7.4
理学部	数学科	109	23	4.7
理学部	物理学科	527	25	21.1
理学部	化学科	261	35	7.5
計		16864	2225	

#### 注意

注意してほしい。心に訴えるに及ばない。それに本大学は開校の間に時間が短いため、必ず確かなものから入試に備えてほしい。試験前一週間頃、多少不安を感じる時はあるにしろ、その強弱ではないものだ。それに各自それぞれのペースで勉強を進めていく。ところが試験前一週間頃、不安の度は急激に高まる。そして、これは二三日前から直前に至る最高となるものである。さて、この大切な直前、この直前をいかに過ごし、当日に諸君が確信を持って出陣する状態を作ることが重要である。以下、少しでも諸君の「ポイント」を述べたい。



学生部風景

#### 博物館学講座

「博物館に専門職員として学ぶ員を養成」博物館法四条、諸君は、この博物館を聞くには、欠くべからざる学芸員が、全国に幾人いると想像します。三四年三月現在の文部省調査によると三〇〇名です。

#### 立大特別講座

強く要望されている講座は、この大である。この講座も我々が誇り得る講座の一つです。我々では昭和二十七年、全国、国・私・公立大学に先けてこの講座を開設し、卒業生は東京

#### 観光・ホテル講座

人もまばらな海浜の地が、二十〇万円。この二事から世の観光に対する関心の高さが知られる。それに最近の社会的状態は、益々人々に観光方面の奨励の対

#### 教職課程

他大学とほとんど同内容である。二二二名を養成して記すべきは、特異なものである。現在のところ、本課程終了者に対しては、特に入求の方が多いといふことが、特色と言えよう。

#### 入試要項

学部名	学科名	募集人員	願書受付締切日	試験日	合格発表日	試験科目
法学部	法学科	約 200	2月24日	2月27日	3月7日	国(甲)英・社(日史・世史・人地の内一科目)又は数I(統計等三角函数を除く)
経済学部	経済学科	約 500	2月23日	2月26日	3月5日	国(甲)、英・社(日史・世史・人地の内一科目)
社会学部	社会学科	約 150	2月24日	2月28日	3月9日	法学部に同じ
文学部	キリスト教文学科 英文心理学科 日本文学科	約 250	2月26日	3月1日	3月11日	経済学部と同じ
理学部	数学科 物理学科 化学科	約 100	2月26日	3月2日	3月14日	数学科・物理学科一國(含甲・作文)・英・物・数(数I「統計等三角函数を除く」の他数II数III「順列、組合せ、確率、統計を除く」の内、いずれか一科目選択) 化学科一國(含甲・作文)・英・化・物理

充実した編集！  
あなたの教養！



### 予約購読者

### 募集のお知らせ

立教大学新聞学会では、予約購読者を募集しております。学内ニユースは勿論、政治、経済文化、スポーツなどあらゆる分野に充実した内容を盛る立教大学新聞をぜひ御購読下さい。

四頁 十円 二頁 五円  
一年分 二百円・半年分 百円  
(原則として毎月十五日発行)

#### 申込書

立教大学新聞(一年分 円)  
をそえて購読を予約致します

住所  
氏名

東京都豊島区池袋三丁目

立教大学新聞学会総務部殿



# の 街 口 商 店 街

— 街 口 商 店 街 —

洋中・モノデ・茶房

## ホーホテモノ

TEL (971) 4820

立大図書

## 立大図書

TEL (971) 4820

立大図書

## 立大図書

TEL (971) 4820

立大図書

## 立大図書

立大図書

## 立大図書

TEL (971) 4820

立大図書

## 立大図書

## 立大図書

立大図書

TEL (971) 4820

